

1 次の文を読み、以下の問いに答えなさい。

第二次世界大戦後の民主化改革で、日本は国の政治の根本原則を^{てんかん}轉換し、国民主権の国となった。日本の権力は3つに分立され（三権分立）、①国会、②内閣、③裁判所からなる。国会は衆議院および参議院から構成され（表1）、④選挙によって国民の代表が選ばれる。近年は市民の政治参加方法も広がり、SNS や⑤NPO など大きな影響を与えている。

表 1

	衆議院	参議院
定数	4 6 5 名	2 4 8 名
任期	4 年	() 年
選挙権	1 8 歳以上	() 歳以上
被選挙権	2 5 歳以上	() 歳以上
選挙区	小選挙区 2 8 9 名 比例代表 1 7 6 名	選挙区 1 4 8 名 比例代表 1 0 0 名
解散	有	無

（出所）衆議院「国会の構成」より作成。

問 1 表 1 の空欄に関して、参議院の任期の年数、選挙権および被選挙権の年齢の組み合わせとして、正しい記述を、以下の①～⑤の選択肢から一つ選びなさい。

- ① 任期 4 年、選挙権 2 0 歳以上、被選挙権 2 5 歳以上
- ② 任期 6 年、選挙権 2 0 歳以上、被選挙権 2 5 歳以上
- ③ 任期 6 年、選挙権 1 8 歳以上、被選挙権 2 5 歳以上
- ④ 任期 4 年、選挙権 1 8 歳以上、被選挙権 3 0 歳以上
- ⑤ 任期 6 年、選挙権 1 8 歳以上、被選挙権 3 0 歳以上

問 2 文中の下線部①に関して、誤った記述を、以下の①～⑤の選択肢から一つ選びなさい。

- ① 国会議員は、会期中は逮捕^{たいほ}されない不逮捕特権を有する。
- ② 国会議員は、議院内での発言や評決についての責任を議院外で問われない免責特権を有する。
- ③ 衆議院と参議院には、立法や行政監督^{かんとく}などのために、国政調査権が与えられている。
- ④ 法律案の議決には、衆議院優越の原則が認められない。
- ⑤ 裁判官の罷免^{ひめん}の訴追^{そつゐ}に関して裁判をおこなう弾劾^{だんがい}裁判所の設置が認められている。

問 3 文中の下線部②に関して、正しい記述を、以下の①～⑤の選択肢から一つ選びなさい。

- ① 内閣総理大臣は、衆議院議員のなかから国会の議決で指名される。
- ② 国务大臣は、半数以下であれば国会議員以外から任命できる。
- ③ 衆議院が内閣不信任案を議決したときは、総辞職しなければならない。
- ④ 最高裁判所長官の指名の権限はあるが、裁判官の任命権はない。
- ⑤ 国会が制定した法律を執行する立法権を行使する。

問 4 文中の下線部③に関して、正しい記述を、以下の①～⑤の選択肢から一つ選びなさい。

- ① 裁判員裁判は、民事事件と刑事事件のみが対象となる。
- ② わが国では、2回まで裁判をおこなうことができる審級^{しんきゅう}制度をとっている。
- ③ 裁判所は違憲審査権を有するが、2010年以降違憲と認められた判決はない。
- ④ 下級裁判所は、地方裁判所、家庭裁判所、簡易裁判所で構成される。
- ⑤ 市民が刑事裁判にかかわる制度として検察審査^{しんさ}会がある。

問5 文中の下線部④に関して、それぞれの選挙制度の長所や短所の説明として、正しい記述を、以下の①～⑤の選択肢から一つ選びなさい。

- ① 「大選挙区」では、有権者が候補者をよく知ることができる。
- ② 「小選挙区」では、買収、供応などの不正がおこなわれやすい。
- ③ 「比例代表」では、一般に二大政党型の安定した政治が可能となる。
- ④ 「大選挙区」では、少数意見が反映されにくい。
- ⑤ 「比例代表」では、死票が多く大政党に有利になりやすい。

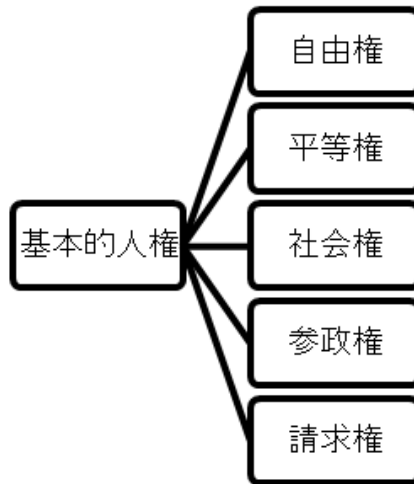
問6 文中の下線部⑤に関して、「政府と市民団体の協力によって、公共政策を作り実施する^{いとな}営み」を示した語句として、正しい語句を、以下の①～⑤の選択肢から一つ選びなさい。

- | | |
|-----------|---------|
| ① マニフェスト | ② 世論 |
| ③ レファレンダム | ④ ガバナンス |
| ⑤ ロビイング | |

2 次の文を読み、以下の問いに答えなさい。

近代市民革命によって、権力を一部の権力者が独占する君主制や貴族制は、人民の合意に基づいて運営される①民主政治に^{てんかん}転換した。それにもなつて、②基本的人権(図1)も歴史とともに発展してきた。民主政治は、③国民主権と基本的人権の尊重によっておこなわれている。このように、民主革命による政治体制の^{てんかん}転換などにより、こんにちの世界には、④多種多様な政治体制が併存している。日本では1945年に⑤日本国憲法が制定され、国民主権、基本的人権の尊重、恒久平和主義を三大基本原理としている。

図1



(出所) 諸富徹 ほか『詳述政治・経済』実教出版より作成。

問7 文中の下線部①のもとになる理念を作った社会契約説^{けいやくせつ}に関する説明として、正しい記述を、以下の①～⑤の選択肢から一つ選びなさい。

- ① 社会契約説は、自然権を守るため、契約を^{むす}結んで国家を作り、その支配に従うのだとする考え方である。
- ② ホブズは「統治二論」において王権神授説を否定した。
- ③ ロックは、自然状態の人間のあり様を「万人の万人に対する闘争」と呼んだ。
- ④ ルソーは「社会契約説」で、政府が自然権を^{しんがい}侵害した場合、国民には抵抗権が生じるとした。
- ⑤ ロックやルソーの主張は、現実には絶対王政を^{ようぜ}擁護するものであった。

問 8 文中の下線部②に関する人物と語句の組み合わせのうち、誤っているものを、以下の①～⑤の選択肢から一つ選びなさい。

- ① モンテスキュー - 「法の精神」
- ② ラッサール - 「夜警国家」
- ③ クック - 「コモン・ロー」
- ④ ブラクトン - 「消極国家」
- ⑤ アダム＝スミス - 「レッセ・フェール」

問 9 文中の下線部③に関する説明のうち、正しい記述を、以下の①～⑤の選択肢から一つ選びなさい。

- ① 民主政治は、多数者の専制と呼ばれる危険性を有する。
- ② 日本では大正デモクラシーによって、男女普通選挙制がおこなわれるようになった。
- ③ 20 世紀になると、大衆民主主義となり、対外的な影響を受けにくくなった。
- ④ 独裁政治体制であるファシズムは、18 世紀に崩壊した。
- ⑤ 民主政治では、国民の代表者が権力を行使する直接民主主義がとられている。

問 1 0 文中の下線部④に関する説明のうち、誤っている記述を、以下の①～⑤の選択肢から一つ選びなさい。

- ① アメリカでは大統領制が採用され、大統領は国民選挙によって選ばれるが、議会で議席をもたない。
- ② イギリスでは議院内閣制が採用され、選挙では政党がマニフェストを掲げて党中心の運動をおこなう。
- ③ シンガポールでは議院内閣制がとられているが、欧米的な自由や民主主義が制限されており、これを開発独裁と呼ぶ。
- ④ 中国では民主的権力集中制が採用され、複数政党による選挙で独裁する一党が決定される。
- ⑤ 2010 年末以降にアラブ諸国で「アラブの春」と呼ばれる民主化運動が起こり、独裁政権が倒れた。

問 1 1 文中の下線部⑤の説明に関して、正しい記述を以下の①～⑤の選択肢から一つ選びなさい。

- ① マッカーサーが松本案を支持し、日本国憲法が成立した。
- ② 憲法は国の最高法規であって、それに違反する法律は効力を有しない。
- ③ 天皇は内閣総理大臣の助言と承認により国事行為を行い、政治的な権能は一部しかもたない。
- ④ 憲法改正は、衆議院と参議院で過半数の賛成があった後に、国民投票がおこなわれる。
- ⑤ 平和維持のため、日本国憲法では集団的自衛権の行使は認められていない。

問 1 2 図 1 に関して、生存権は基本的人権によって保障される 5 つの権利のどこに分類されるのか、正しいものを、以下の①～⑤の選択肢から一つ選びなさい。

- | | |
|-------|-------|
| ① 自由権 | ② 平等権 |
| ③ 社会権 | ④ 参政権 |
| ⑤ 請求権 | |

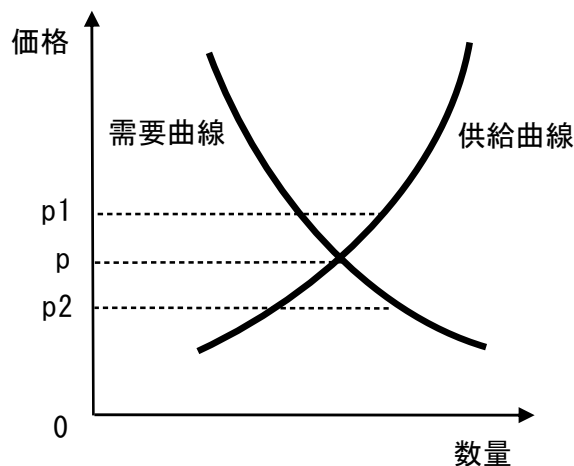
3 次の文を読み、以下の問いに答えなさい。

私たちの生活は経済活動によって支えられている。私たちは経済活動のなかで利用できる時間も資源も無限にはないから、①「何を採用して、何をあきらめるか」という選択を繰り返している。財・サービスは市場で取り引きされ、市場は需要と供給を一致させて、財・サービスの価格と取り引きされる数量を決定する（図2）。

②経済体制は、資本主義経済と社会主義経済の二つに大別される。日本では前者がとられ、多くの企業によって経済が営まれている。その代表が株式会社であり、株式会社は事業を通じて利潤をあげることが目的となる。利潤から株主に配当が支払われた残りがAであり、これは企業の成長のための重要な資源となる。

③経済規模を表す指標にはさまざまなものがある。それらの指標によって経済成長や景気循環の動向が示されている。④日本銀行は、公開市場操作などをおこない、景気や物価の安定をはかっている。

図2



（出所）諸富徹 ほか『詳述政治・経済』実教出版より作成。

問13 文中の下線部①を表した語句として、正しい語句を、以下の①～⑤の選択肢から一つ選びなさい。

- | | |
|-----------|--------------|
| ① インセンティブ | ② プライマリーバランス |
| ③ 機会費用 | ④ ペイオフ |
| ⑤ トレードオフ | |

問 1 4 文中の下線部②に関する説明として、正しい記述を、以下の①～⑤の選択肢から一つ選びなさい。

- ① 資本主義経済は、計画経済であり、生産者も消費者も自由意志で行動する。
- ② 資本主義の利点として、社会階層間の格差の解消があげられる。
- ③ アダム＝スミスの「大きな政府」がきっかけとなり、修正資本主義が成立した。
- ④ 中国は社会主義市場経済をうたい、外国資本を積極的に導入し、経済成長をとげた。
- ⑤ ロシアは、ペレストロイカによって資本主義経済へ転換した。

問 1 5 文中の空欄 A に入る適切な語句を、以下の①～⑤の選択肢から一つ選びなさい。

- ① 内部留保^{りゅうほ}
- ② 減価償却費
- ③ 社債^{しゃさい}
- ④ 設備投資費
- ⑤ 外部資金

問 1 6 文中の下線部③に関する説明として、正しい記述を、以下の①～⑤の選択肢から一つ選びなさい。

- ① 国内総生産（GDP）には、国外で国民が生み出した付加価値の総計も含まれる。
- ② 1人あたりの国内総生産（GDP）のことを実質 GDP と呼ぶ。
- ③ 生産、分配、支出から見た国民所得（NI）の大きさが一致することを^{さんめんとうか}三面等価の原則という。
- ④ 国民の豊かさを示す指標として、国内総生産（GDP）に代わって国民純福祉^{ふくし}（NNW）が広く定着している。
- ⑤ 国民所得（NI）は、1人あたりの国民総所得（GNI）のことを示す。

問 1 7 文中の下線部④の役割として、誤っている記述を、以下の①～⑤の選択肢から一つ選びなさい。

- ① デフレーションのときに資金供給オペレーションをおこなう。
- ② 市中金融機関との間^{あいだ}で国債などを売買^{ばいばい}してマネタリーベースを調整する。
- ③ インフレーションのときは資金供給量を減らし、金利を高め^{たかめ}に誘導する。
- ④ 「政府の銀行」として国庫金^{すいとう}の出納^{こくさい}や国債発行の代行などをおこなう。
- ⑤ フィスカルポリシーによって景気循環^{じゅんかん}の平準化をはかる。

問 1 8 図 2 に関して、需要曲線と供給曲線の説明として、正しいものを、以下の①～⑤の選択肢から一つ選びなさい。

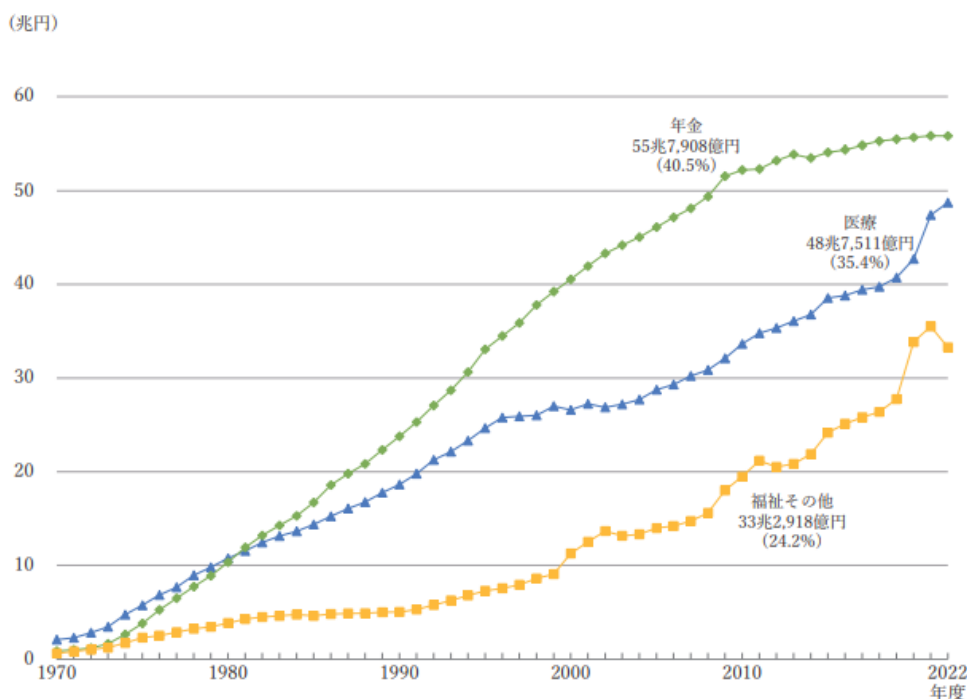
- ① p_1 では価格が下落し、点 p に向かう傾向にある。
- ② p_1 における需要量と供給量の差を超過需要と呼ぶ。
- ③ 需要曲線と供給曲線が交わる点 p を市場価格と呼ぶ。
- ④ 供給曲線が右上がりなのは、1 個のものを売ることで得られる利益が少なくなり、供給量を増やさなければならないことを意味する。
- ⑤ 需要曲線が右下がりなのは、価格が下落すれば、買い手がいなくなるためである。

4 次の文を読み、以下の問いに答えなさい。

近代初期には、^{ひんこん}貧困や失業は主に教会や地方によって対処され、国家の責任とは考えられていなかった。しかし、1600年代に①世界初の公的^{ふじよ}扶助制度が誕生して以降、19世紀末から20世紀初めにかけて、②欧米で社会保障制度が整備されるようになった。

日本の社会保障制度は、日本国憲法第25条のAの考え方を基本理念として作られており、③社会保険、公的扶助、社会福祉、Bの4つが中心となっている。

図3 部門別社会保障給付費の年次推移



(注) 社会保障給付費の範囲は、ILO（国際労働機関）が国際比較上定めた社会保障の基準に基づいて決定されている。社会保障給付費の「医療」、「年金」、「福祉その他」における部門別分類は、次のとおりである。「医療」には、医療保険、老人保健の医療給付、生活保護の医療扶助、労災保険の医療給付、結核、精神その他の公費負担医療、保健所等が行う公衆衛生サービスに係る費用等が含まれる。「年金」には、厚生年金、国民年金等の公的年金、恩給及び労災保険の年金給付等が含まれる。「福祉その他」には、社会福祉サービスや介護対策に係る費用、生活保護の医療扶助以外の各種扶助、児童手当等の各種手当、医療保険の傷病手当金、労災保険の休業補償給付、雇用保険の失業給付が含まれる。

(出所) 国立社会保障・人口問題研究所「令和4年度社会保障費用統計」より作成。
(https://www.ipss.go.jp/ss-cost/j/fsss-R04/fsss_R04.html)

問 1 9 文中の下線部①について、世界初の公的扶助制度に関する説明として、誤っている記述を、以下の①～⑤の選択肢から一つ選びなさい。

- ① 宰相ビスマルクが提唱した。
- ② 慈善的な救貧事業に対象が限定されていた。
- ③ 労働能力のない貧民を救済することを目的としていた。
- ④ 治安維持を主な目的としていた。
- ⑤ 労働能力のある者には強制労働を課した。

問 2 0 文中の下線部②について、欧米での社会保障制度に関する説明として、最も適切な記述を、以下の①～⑤の選択肢から一つ選びなさい。

- ① 19 世紀末のイギリスでは、地震などの自然災害が多かったため、初の地震保険制度が導入された。
- ② ベバリッジ報告は、全国民に最低限度の生活水準を保障することを目的として提出された。
- ③ フランスでは、1930 年代の不況により大量の生活困窮者が生み出され、シャウプ勧告が出された。
- ④ アメリカでは、いわゆる「ゆりかごから墓場まで」の保障が追求された。
- ⑤ ドイツでは、単一の社会保障制度を国民に適用し、費用は主に公費負担とする方式が採用された。

問 2 1 文中の空欄 A に入る適切な語句を、以下の①～⑤の選択肢から一つ選びなさい。

- | | |
|---------|---------|
| ① 平等権 | ② 社会保障権 |
| ③ 自由権 | ④ 生存権 |
| ⑤ 経済保障権 | |

問 2 2 文中の下線部③に関する記述として、最も適切なものを、以下の①～⑤の選択肢から一つ選びなさい。

- ① 年金給付費用を積立方式で運用する場合、少子高齢化によって世代間の不公平が生じるというデメリットがある。
- ② 年金給付費用を賦課^{ふか}方式で運用する場合、物価上昇によって年金の価値が下がるというデメリットがある。
- ③ 医療保険、年金保険、労災保険、介護保険の4つから成る。
- ④ 高齢者の医療費負担については、1983年に導入された後期高齢者医療制度によって医療費の一部が自己負担となった。
- ⑤ 財源は、労災保険を除き、事業主と本人が納める保険料を中心に、国や地方自治体が一部補助しまかなわれている。

問 2 3 文中の下線部③に関して、図 3 は、日本の部門別の社会保障給付費の推移を示したものである。このグラフをもとに、1990年代以降に急増した社会保障給付費に関する記述として、誤っている記述を、以下の①～⑤の選択肢から一つ選びなさい。

- ① バブル崩壊後の不況により、生活保護や失業手当の受給者が増え、社会保障費が増加した。
- ② 介護保険制度の導入により、介護給付費が継続的に増加した。
- ③ 高齢化による受給者の増加と、平均寿命の延びによる年金支給期間の長期化により、年金支出が増加した。
- ④ 平均寿命の延びや医療技術の進歩により、医療費の支出が増加した。
- ⑤ 少子化対策として子育て支援関連の給付が増え、社会保障給付費の主要な支出となった。

問 2 4 文中の空欄 **B** に関する記述として、最も適切なものを、以下の①～⑤の選択肢から一つ選びなさい。

- ① 清掃、下水道などの環境整備、感染症^{かんせんしやう}などの予防衛生によって、国民の健康維持・増進を図ることを目的とする。
- ② 貧困で生活が困難な人に最低限の生活を保障するために、生活費や教育費、住宅費などを援助している。
- ③ 日本国内に住む 20 歳以上 60 歳未満のすべての人が加入する保険料を財源としている。
- ④ 大きな政府よりも小さな政府の方が、充実したサービスを提供できる分野である。
- ⑤ 近年では、この分野において高齢化に伴う財源不足が課題となっており、ノーマライゼーションの導入が検討されている。

5 次の文を読み、以下の問いに答えなさい。

第 1 次世界大戦の原因が、それまでのヨーロッパ列強間の権力政治的な①勢力均衡政策にあるとして②国際連盟が誕生した。しかし、その後の第二次世界大戦を防ぐことができず、事実上崩壊した。その後、③国際連合（国連）が設立され、世界の平和と安全を維持し、国際協力を進める役割を果たしている。国連の主要機関には、総会、安全保障理事会（安保理）、国際司法裁判所、A、信託統治理事会などがあり、国際的な課題に対応するための多様な取り組みが行われている。近年は、持続可能な開発目標（SDGs）の達成を目指し、気候変動への対策や貧困削減、教育の普及なども推進されている。

表 2 主要国の国連通常予算分担率（単位：％）

順位（注 1）	国名	2019から2021年	2022から2024年
1	A	22.000	22.000
2	B	12.005	15.254
3	C	8.564	8.033
4	D	6.090	6.111
5	E	4.567	4.375
6	F	4.427	4.318
7	イタリア	3.307	3.189
8	カナダ	2.734	2.628
9	韓国	2.267	2.574
10	スペイン	2.146	2.134

（注 1）2022 年から 2024 年の順位を表す。

（注 2）出題の都合により、表の一部を改編している。

（出所）外務省 HP「国連外交 日本の分担金・拠出金」より作成。

問 2 5 文中の下線部①に関する記述として、最も適切なものを、以下の①～⑤の選択肢から一つ選びなさい。

- ① 対立する国々も含めた^{ほうかつ}包括的な体制を築き、集団的に制裁を加えることで、平和の維持・回復を図る。
- ② 対立する諸国家間で軍事増強・同盟形成を通じて安全を確保しようとする。
- ③ 自国が攻撃を受けていなくても、同盟など密接な関係を持つ国が攻撃を受けた場合に共同して反撃できる。
- ④ 軍拡競争を防ぐために、同盟に加盟する諸国家間で軍事力の削減を行う。
- ⑤ 個別的自衛権とともに、国連憲章第 51 条で認められることになった。

問 2 6 文中の下線部②について、国際連盟の設立を提唱した人物として、最も適切なものを、以下の①～⑤の選択肢から一つ選びなさい。

- ① ウォレン・G・ハーディング ② フランクリン・ルーズベルト
- ③ ハリー・トルーマン ④ ウッドロウ・ウィルソン
- ⑤ ウィリアム・ハワード・タフト

問 2 7 文中の下線部②について、国際連盟にはいくつかの欠陥があったとされている。その説明として、誤った記述を、以下の①～⑤の選択肢から一つ選びなさい。

- ① 総会と理事会の全会一致制のため、構成国間の重大な対立に際し、有効な決定が^{こんなん}困難だった。
- ② 軍事的任務を代表幹事国の 5 か国にのみ^{ゆだ}委ねていた。
- ③ 連盟の決定は、原則として単なる^{かんこく}勧告に過ぎず、侵略国に対する経済制裁にとどまった。
- ④ アメリカが加盟していなかった。
- ⑤ 社会主義国ソ連が当初は国際連盟と対立関係にあった。

問 2 8 文中の下線部③に関して、表 2 は、主要国の国連通常予算分担率を示したものである。表中の A～F の国名について、正しい組み合わせを、以下の①～⑤の選択肢から一つ選びなさい。

- | | | | |
|------------|----------|------------|----------|
| ① A : アメリカ | F : インド | ② B : ロシア | E : フランス |
| ③ C : 中国 | F : 日本 | ④ A : アメリカ | B : 日本 |
| ⑤ D : ドイツ | E : イギリス | | |

問 2 9 文中の空欄 A に入る適切な語句を、以下の①～⑤の選択肢から一つ選びなさい。

- | | |
|--------------------|---------------------|
| ① 国際原子力機関 (IAEA) | ② 国連貿易開発会議 (UNCTAD) |
| ③ 経済社会理事会 (ECOSOC) | ④ 国連児童基金 (UNICEF) |
| ⑤ 人権理事会 (HRC) | |

6 次の文を読み、以下の問いに答えなさい。

世界の国々は、さまざまな形で経済成長を遂げてきた。その中で、貿易は国際的な経済活動のひとつであり、自国の産業や資源をいかに活用して貿易をおこなうかが、各国の経済に大きな影響を与えている。

19 世紀のイギリスでは、**A** が提唱した①比較生産費説に基づいた**B** 貿易をおこなっており、植民地にも同様の貿易をおこなうことを求めた結果、その後の②途上国の経済を停滞させる要因のひとつとなった。

こうした国際貿易や国と国との間でおこなわれる経済取引を全て集計し記録したものが、国際収支である。

表 3 A 国と B 国の服地とワインの生産に必要な労働時間

国名	服地生産に必要な労働時間	ワイン生産に必要な労働時間
A 国	10 時間	15 時間
B 国	20 時間	10 時間

(注 1) 出題の都合により、表の一部を改編している。

(出所) 諸富徹ほか『詳述政治・経済』実教出版より作成。

問 3 0 文中の空欄 **A** に入る適切な語句を、以下の①～⑤の選択肢から一つ選びなさい。

① エンゲルス

② メルケル

③ フリードマン

④ オーウェン

⑤ リカード

問 3 1 文中の下線部①に関して、比較生産費説に関する説明として、最も適切なものを、以下の①～⑤の選択肢から一つ選びなさい。

- ① 各国は、他国と比べた場合に相対的に安く生産できる財に特化することで、資源や労働力、資金を有効活用できる。
- ② 各国は、他国と比べた時に、その財の生産にかかる費用の高低にかかわらず、全ての財を自国で生産することが推奨される。
- ③ 各国は、他の産業と比べて生産効率が中程度の産業に特化し、他国に輸出することが重要である。
- ④ 各国は、できる限り同じ財を生産し、その財を互いに輸出して、国際的な市場で競争を行うことで、公平な貿易を行うことを目指す。
- ⑤ 各国は、ある財の国内需要が他国と比べて高い場合に、自国での生産に特化することで、効率的に経済成長を達成することが可能となる。

問 3 2 表 3 は、A 国と B 国が服地とワインを生産するために必要な労働時間を示している。この表に基づき、A 国と B 国が、文中の下線部①の「比較生産費説」に従った場合、B 国の状況として最も適切なものを、以下の①～⑤の選択肢から一つ選びなさい。

- ① B 国は服地とワインの両方を生産し、A 国との貿易を行うが、生産量を少しずつ調整し自国内消費を優先する。
- ② B 国は服地とワインをほぼ同量生産し、貿易には頼らず、自国内での完全自給を目指す。
- ③ B 国は服地の生産に特化し、A 国が生産する服地と競争しながら、少量のワインも生産して国内需要を補う。
- ④ B 国はワインの生産に完全に特化し、A 国との貿易を行うことで、両国の生産効率を最大化する。
- ⑤ 選択肢①～④のいずれも適切な解答ではない。

問 3 3 文中の空欄 **B** に入る適切な語句を、以下の①～⑤の選択肢から一つ選びなさい。

- | | |
|------|-------|
| ① 管理 | ② 自由 |
| ③ 保護 | ④ 二国間 |
| ⑤ 水平 | |

問 3 4 文中の下線部②に関して、途上国の経済についての説明として、誤った記述を、以下の①～⑤の選択肢から一つ選びなさい。

- ① 1960 年代前半まで、多くの途上国は、特定の一次産品の輸出に依存したモノカルチャー経済に陥っていた。
- ② 1970 年代には、工業製品の輸出によって成長を遂げた途上国が注目された。
- ③ 韓国、台湾、香港、シンガポールなどは、輸入代替工業化政策を採用し、経済成長を遂げた。
- ④ 1980 年代まで、先進国と途上国間の交易条件が途上国に不利にならないよう、途上国からの輸入品に一般特惠関税が適用された。
- ⑤ WTO（世界貿易機関）体制下では、先進国の農業と途上国の工業の市場が大幅に開放された。